
Banque commune École Polytechnique - InterENS

PSI

Session 2018

Épreuve de Physique

Durée: 4 heures

Aucun document n'est autorisé.

L'usage de calculatrices est interdit.

N.B. : L'attention des candidats est attirée sur le fait que la notation tiendra compte du soin, de la clarté et de la rigueur de la rédaction et de la présentation. Les résultats non justifiés n'apporteront pas de points. Les candidats sont priés d'accorder une importance particulière aux applications numériques.

Si un candidat est amené à repérer ce qui peut lui sembler être une erreur d'énoncé, il le signalera sur sa copie et devra poursuivre sa composition en expliquant les raisons des initiatives qu'il a été amené à prendre.

La longueur du sujet ne doit pas décourager les candidats. L'indépendance des différentes parties, la progressivité de chacune d'entre elles, la diversité des thèmes abordés permettront à chaque candidat de révéler sa compréhension de la physique dans des domaines variés. Les candidats doivent être conscients qu'un traitement superficiel de quelques questions dans chaque partie sera peu valorisé.

Problèmes liés à la distribution filaire de l'énergie électrique.

La distribution de l'énergie électrique par un réseau de lignes fait partie du paysage quotidien depuis de nombreuses années en Europe et dans le Monde entier !

Ce problème va étudier quelques aspects de ce transport :

- Le rendement énergétique du réseau qui est un enjeu majeur à l'heure des économies d'énergies.
- Les incidents sur les lignes qu'il faut à tout prix éviter afin de protéger les installations en aval et en amont du réseau. L'objectif est de sécuriser la distribution d'énergie électrique.

Les deux parties sont largement indépendantes.

Un certain nombre de questions portent sur les conditions d'établissement d'un modèle physique des dispositifs. Elles auront autant d'importance dans l'évaluation que les questions portant sur la résolution et l'exploitation de ce modèle. Il est, bien sûr, quand même possible de résoudre le modèle sans l'avoir correctement justifié.

On considérera dans tout le problème des grandeurs physiques dépendant du temps $x(t)$. Si elles dépendent du temps de manière périodique (période T), on leur associera une valeur moyenne $\langle x(t) \rangle = X_m$ et on notera $n_{\max} = f_{\max} T$, le rang de l'harmonique le plus élevé. Il correspond au rang à partir duquel on peut négliger l'influence des harmoniques. On pourra utiliser la décomposition de Fourier sans jamais chercher à calculer l'amplitude X_n ou la phase ϕ_n des différentes composantes et on notera $x(t) = X_m + \sum_{n=1}^{n_{\max}} X_n \sqrt{2} \cos\left(n \frac{2\pi}{T} t + \phi_n\right)$.

On pourra associer à toute grandeur dépendant du temps de manière sinusoïdale $x(t) = X_0 \sqrt{2} \cos(\omega t + \phi_0)$ une représentation complexe de valeur efficace $\underline{X} = X_0 e^{j\phi_0}$. Bien évidemment, dans ce cas, $\langle x(t) \rangle = X_m = 0$.

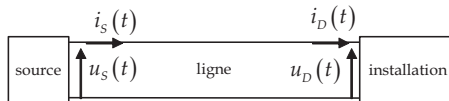
On posera dans tout le problème $j^2 = -1$

A Rendement énergétique du réseau

Le rendement énergétique d'un réseau de distribution de l'énergie électrique est principalement lié à la perte d'énergie dans les lignes de transport. Cette perte dépend largement de l'intensité du courant les parcourant. Or cette intensité dépend de l'installation recevant l'énergie et éventuellement de la ligne électrique.

On considérera que cette ligne est constituée de deux fils conducteurs de longueur d .

La source sera considérée comme sinusoïdale avec $u_s(t) = U_0 \sqrt{2} \cos(2\pi f t)$, $f = \frac{1}{T}$ étant la fréquence.



A I) Puissance perdue dans la ligne

- 1) Expliquer à quelle condition on peut considérer que $i_s(t) \approx i_D(t)$. Cette condition sera supposée réalisée dans toute la partie A. On notera $i(t) = i_s(t) = i_D(t)$.
- 2) Expliquer à quelle condition on peut considérer que $u_s(t) \approx u_D(t)$. Cette condition sera supposée réalisée dans toute la partie A. On prendra $u_D(t) = u_s(t)$.

La puissance perdue dans la ligne peut s'écrire sous la forme $p_L(t) = K \cdot d \cdot i(t)^2$, d étant la longueur de la ligne et K une constante. La puissance moyenne est notée $\langle p_L(t) \rangle = P_L = K \cdot d \cdot I^2$

- 3) Quelles sont les causes physiques de cette perte ?
- 4) Que représente I ?
- 5) Quels sont les différents facteurs pouvant modifier la valeur de K . Appuyez votre réponse sur des exemples simples (conducteur ohmique cylindrique).

La puissance moyenne consommée par l'installation est notée P . On appellera rendement énergétique de la ligne $\eta = \frac{P}{P + P_L}$.

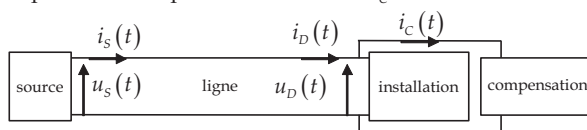
A II) Le facteur de puissance

- 6) Quelle propriété de l'installation permettrait d'assurer une intensité $i(t)$ sinusoïdale de la forme $i(t) = I_0 \sqrt{2} \cos(2\pi f t + \varphi)$? Donner les valeurs de la tension efficace et de la fréquence pour le réseau européen. Discuter numériquement la condition imposée dans la question (1).

On adoptera cette propriété pour toute la partie AII), avec $0 \geq \varphi > -\frac{\pi}{2}$.

- 7) Exprimer le rendement η en fonction des données de l'énoncé : la puissance moyenne consommée par l'installation P ainsi que K , d , U_0 , φ .
- 8) Sur quels facteurs, autres que φ et K , peut-on jouer pour augmenter ce rendement ? Évitez une simple énumération dans la réponse. Détaillez plus particulièrement le facteur, en pratique, le plus important en proposant des solutions technologiques au problème.

On tente d'améliorer le rendement en ajoutant un dispositif de compensation « à côté » et en parallèle avec l'installation. On notera $i_c(t) = I_c \sqrt{2} \cos(2\pi f t + \varphi_c)$. La puissance moyenne consommée par le dispositif de compensation est notée P_C .



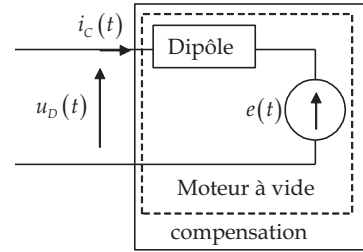
- 9) Quelle propriété doit vérifier $i_c(t)$ pour que $P_C = 0$?
- 10) Déterminer, lorsque $P_C = 0$, $i_c(t)$ pour que η soit maximum toutes choses égales par ailleurs.

- 11) Proposer un dispositif, autre que celui étudié dans la suite, permettant d'obtenir le résultat escompté. Préciser le ou les paramètres du dispositif en fonction de P, f, U_0, φ .

Pour réaliser le dispositif de compensation on utilise un moteur synchrone.

Ce moteur tourne à vide et on négligera les pertes mécaniques et électriques du moteur dans un premier temps. Ce moteur est électriquement équivalent à un dipôle d'impédance purement imaginaire jX avec $X > 0$ en série avec un générateur sinusoïdal de même fréquence f que le réseau.

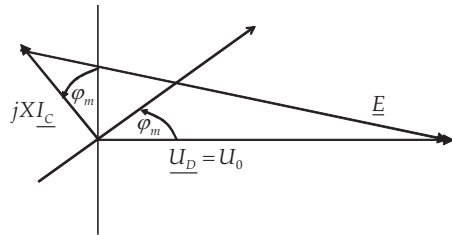
On notera \underline{E} la tension efficace de ce générateur dont on peut régler le module $|\underline{E}| = E$.



- 12) Pourquoi $X > 0$? Comment peut-on régler E ? Pourquoi la fréquence est-elle la même que celle du réseau ? Répondez de manière qualitative, mais précise, à ces trois questions.

- 13) Calculer, en fonction de P, X, U_0, φ , la valeur de E permettant d'optimiser la distribution de l'énergie.

Les pertes énergétiques du moteur ne sont plus négligées et elles sont prises constantes de puissance égale à P_C . Cette puissance est fournie intégralement par le réseau d'alimentation. Pour calculer la nouvelle valeur du module de \underline{E} permettant d'optimiser les pertes en ligne on utilise une construction dans le plan de Fresnel.



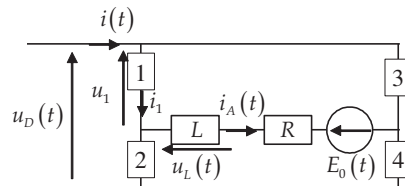
- 14) Quelle est la signification de φ_m ? Réaliser la construction dans le cas $P_C = 0$.

- 15) Déterminer (avec $P_C > 0$) la valeur de E permettant d'optimiser la distribution de l'énergie en fonction de U_0, P, P_C, X, φ .

A III) Le facteur de forme

L'installation est maintenant un redresseur suivi d'une charge correspondant à une inductance L en série avec une résistance R et un générateur de tension $E_0(t)$ ($U_0\sqrt{2} > E_0(t) \geq 0$). Ces deux derniers éléments modélisant un accumulateur en recharge. On se place en régime périodique.

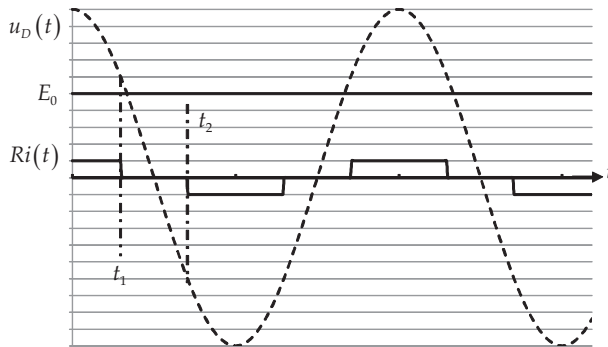
Les interrupteurs sont idéaux (ils ne consomment aucune puissance) et ils sont repérés par les numéros 1, 2, 3, 4. Les interrupteurs sont tels que l'intensité du courant $i_A(t) \geq 0$.



- 16) Pourquoi la tension $E_0(t)$ dépend-elle du temps ? Pourquoi pourra-t-on considérer dans la pratique qu'elle n'en dépend pas ? On la notera, pour simplifier, E_0 .
- 17) Ce convertisseur de puissance obéit-il aux règles d'association ?
- 18) Comment choisir la valeur de l'inductance L pour que l'on ait $i_A(t) > 0$ (conduction continue). On supposera cette condition vérifiée pour la suite et on considèrera, de plus, que $\langle i_A(t) \rangle = I_{Am}$? $\Delta I_A \geq |i_A(t) - I_{Am}|$, ΔI_A étant l'ondulation de courant.
- 19) Quels sont les interrupteurs dont le fonctionnement est complémentaire (quand l'un est ouvert, l'autre est nécessairement fermé)
- 20) Expliquer pourquoi exactement deux interrupteurs doivent être fermés en même temps.

Les interrupteurs 3 et 4 sont de simples diodes que l'on considèrera comme idéales.

On donne une courbe, issue d'une simulation, représentant différentes grandeurs en fonction du temps. Pour l'intensité $i(t)$, on a choisi de tracer $Ri(t)$ par souci d'homogénéité.



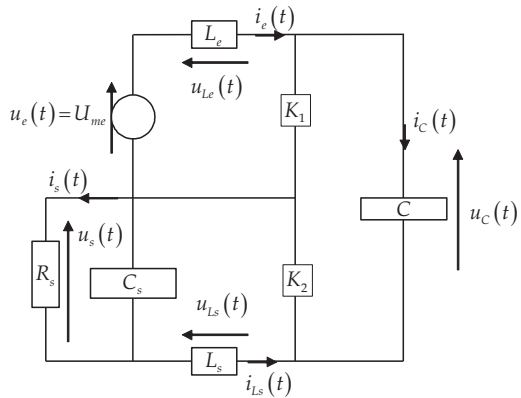
- 21) Disposer les diodes 3 et 4 dans le circuit.
- 22) Tracer le chronogramme sur une période de l'interrupteur 1 ($u_1(t)$ et $Ri_1(t)$).
- 23) Tracer, dans le plan (u_1, i_1) , la courbe décrite par le point de fonctionnement de l'interrupteur 1. Pourquoi faut-il utiliser un transistor ?
- 24) Tracer $u_L(t)$. La simulation vous paraît-elle pertinente ? Si non, expliquer succinctement comment modifier $\langle i_A(t) \rangle = I_{Am}$, toutes choses égales par ailleurs, pour l'améliorer.
- 25) Expliquer pourquoi, en vous aidant de la forme du spectre de l'intensité $i(t)$, la présence de ce genre de convertisseur en charge d'une ligne de distribution diminue le rendement énergétique de la ligne.

A IV) L'élévation de la tension

On considère le circuit suivant, composé d'inductances L_e, L_s , de condensateurs C, C_s , d'une résistance, représentant la ligne électrique et l'installation, R_s et de deux interrupteurs idéaux complémentaires K_1, K_2 .

Les interrupteurs ont un cycle de fonctionnement périodique de période T_H . Pendant la durée αT_H , K_1 est fermé et K_2 est ouvert. Pendant la fin du cycle, sur la durée $(1-\alpha)T_H$, K_2 est fermé et K_1 est ouvert. $0 < \alpha < 1$.

On se place pour ce circuit en régime périodique.



26) Expliquer précisément pourquoi les valeurs moyennes de i_c, u_{L_e} sont nulles.

27) À quelle condition sur T_H peut-on considérer que les différentes grandeurs électrocinétiques sont affines par morceaux ? On précisera la condition en fonction des différentes impédances du circuit.

L'étude est décomposée en deux. Dans un premier temps, toutes les grandeurs électrocinétiques de valeur moyenne non nulle sont considérées comme constantes égales à leur valeur moyenne.

28) Représenter les circuits équivalents lors de deux phases du cycle.

29) Représenter les tensions u_{L_s}, u_{L_e} sur une période en fonction des valeurs moyennes des différentes tensions.

30) En déduire $U_{sm} = \langle u_s(t) \rangle$ en fonction de U_{em}, α et de la valeur des différents composants. Justifier l'appellation de hacheur survolteur.

31) Calculer I_{em} , la valeur moyenne de $i_e(t)$ en fonction de U_{em}, α et de la valeur des différents composants.

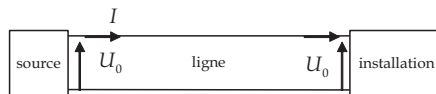
Dans un deuxième temps, on utilise les résultats précédents pour calculer l'ondulation des grandeurs de valeur moyenne non nulle.

32) Quel est l'intérêt d'un tel calcul ?

33) Calculer le taux d'ondulation de la tension $u_c(t)$, c'est-à-dire $\Delta_{u_c} = \frac{u_{cmax} - u_{cmin}}{2U_{cm}}$ en

fonction de T_H, α et de la valeur des différents composants.

34) Expliquer comment intégrer deux dispositifs identiques au système étudié dans cette partie dans le système de distribution de l'énergie électrique à courant continu représenté ci-dessous afin d'en augmenter le rendement.



35) La puissance consommée par la ligne vaut $P_L = K \cdot d \cdot I^2 = U_0 I$. Le rendement énergétique de

la ligne $\eta = \frac{P}{P + P_L}$ est tel que $1 - \eta = 1\%$. Exprimer, en fonction de α , le nouveau rendement énergétique η' . Calculer numériquement α afin que $1 - \eta' = 0,01\%$.

B Incident dans les lignes

On considère dans la partie B que les conditions de l'électrocinétique ne sont plus réunies pour la ligne. Pour traiter les incidents sur la ligne, on s'appuie sur l'analogie avec le problème d'une corde vibrante.

B I) Analogie avec la corde vibrante

B I A) Généralités sur la corde vibrante

Soit une corde tendue de tension T_0 , horizontale, de masse linéique μ . On repère l'élongation verticale par $y(x, t)$.

- 36) Rappeler les approximations usuelles des cordes vibrantes et définir soigneusement la tension de la corde en x à t .
- 37) Établir l'équation de propagation et donner l'expression de la célérité c en fonction des données.
- 38) On définit l'impédance Z de la corde pour une onde progressive comme le rapport de la tension verticale T_y à la vitesse $\frac{\partial y}{\partial t}$. Pour une onde progressive sinusoïdale de pulsation ω et de vecteur d'onde k donner la relation de dispersion et l'expression de l'impédance en fonction μ et T_0 . On pourra utiliser la notation complexe $\underline{y} = \underline{Y}_0 e^{j(\omega t - kx)}$. Expliquer les différences entre $k > 0$ et $k < 0$.
- 39) Exprimer la vitesse de phase et la vitesse de groupe. Les interpréter !
- 40) La corde est maintenant fixée en $x = 0$. Une onde incidente sinusoïdale se propage dans la partie $x < 0$ et se réfléchit. On note $\underline{y}_i = \underline{Y}_i e^{j(\omega t - kx)}$ l'onde incidente. Écrire l'onde réfléchie supposée d'amplitude \underline{Y}_r . Comment justifier simplement qu'elle soit de même pulsation.
- 41) On note $\underline{\rho} = \frac{\underline{Y}_r}{\underline{Y}_i}$ le coefficient de réflexion en $x = 0$. Trouver sa valeur. En déduire l'expression de l'onde totale pour $x < 0$. Quelle est sa nature ?

B I B) Analyse énergétique

- 42) On note $e_c = \frac{1}{2} \mu \left(\frac{\partial y}{\partial t} \right)^2$ l'énergie cinétique linéique de la corde. Appliquer le théorème de la puissance cinétique à une tranche $[x, x + dx]$ de corde en mouvement. On notera $\delta P_i = p_i dx$ la puissance des efforts intérieurs (nécessaire compte tenue de la déformabilité de la corde). p_i est la puissance linéique intérieure. Montrer que : $p_i = -T_0 \frac{\partial y}{\partial x} \cdot \frac{\partial^2 y}{\partial x \partial t}$.
- 43) En déduire qu'il existe une énergie potentielle linéique intérieure : $e_p = \frac{1}{2} T_0 \left(\frac{\partial y}{\partial x} \right)^2$.

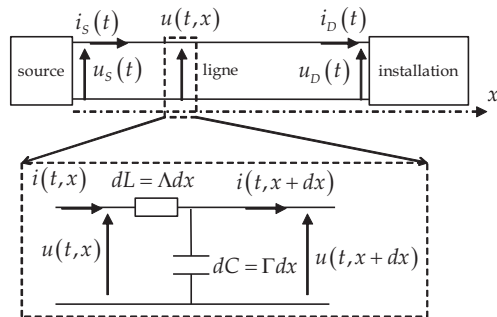
- 44) On appelle $P(x,t) = T_y(x,t) \frac{\partial y}{\partial t}(x,t)$ la puissance transférée par l'onde en x à t . Vérifier que : $\frac{\partial(e_c + e_p)}{\partial t} = -\frac{\partial P}{\partial x}$. Par analogie avec l'électromagnétisme comment pourrait-on appeler P et cette équation ? Que nous dit-elle concernant les termes de "pertes" ? Est-ce en accord avec le modèle ?
- 45) Pour l'onde de la question 41), après retour réel calculer $P(x,t)$. En déduire sa valeur moyenne. Montrer que les points où $P(x,t)$ est nulle à tout instant sont équidistants de $\lambda/4$.

B II) Section de la ligne

Pour étudier la propagation d'une onde électrocinétique dans la ligne de longueur d , on utilise l'analogie avec la corde vibrante.

On la modélise par une suite de filtres linéaires faisant intervenir une inductance par unité de longueur Λ et une capacité par unité de longueur Γ . On a toujours la tension d'entrée $u_s(t) = U_0 \sqrt{2} \cos(2\pi f t)$.

On pose : $c = \frac{1}{\sqrt{\Lambda\Gamma}}$, $k = \frac{\omega}{c}$ et $Z_c = \sqrt{\frac{\Lambda}{\Gamma}}$.



- 46) Déterminer la dimension des différentes grandeurs Z_c, c .
- 47) Dresser un tableau des analogies entre le problème de la corde et celui de la ligne. Faites correspondre les grandeurs de la corde $\frac{\partial y}{\partial t}, \frac{\partial y}{\partial x}, T_0, \mu, e_c, e_p, P$ avec celles de la ligne.

L'impédance de l'installation vaut Z_D .

La tension dans la ligne s'écrit : $\underline{u}(x,t) = (\underline{U}_i \exp(-jkx) + \underline{U}_r \exp(jkx)) \exp(j\omega t) = \underline{U}(x) \exp(j\omega t)$.

On calcule $\frac{\underline{U}_r \exp(jkx)}{\underline{U}_i \exp(-jkx)} = \frac{Z_D - Z_c}{Z_D + Z_c} \exp(2jk(x-d))$.

En posant $\underline{i}(x,t) = \underline{I}(x) \exp(j\omega t)$ et après calcul on obtient $\frac{\underline{U}(x)}{\underline{I}(x)} = Z_c \frac{Z_D + jZ_c \tan(k(d-x))}{Z_c + jZ_D \tan(k(d-x))}$

- 48) Déterminer la relation entre Z_c et Z_D pour que l'onde de tension dans la ligne soit progressive.

Un incident se produit sur la ligne électrique. Le câble électrique se rompt et reste suspendu en l'air à l'abscisse $x = a$.

- 49) Déterminer l'intensité $\underline{I}(0)$ et la tension $\underline{U}(a)$.
- 50) Que se passe-t-il si $a = \frac{\lambda}{4}$. Commenter.

Fin du problème